



Grade

4

الاختبار التشخيصي - العام الأكاديمي 2024/2023

Diagnostic Test – Academic Year 2023/2024

	رقم الطالب / Student Number
	اسم الطالب / Student Name
	المدرسة / School
4	الصف / Class
العام / General	المسار / Stream
الرياضيات / Mathematics	المادة / Subject
Bridge/ Reveal	

This table must be filled in accurately by the Marker

يملأ هذا الجدول بدقة تامة من قبل مقدر الدرجة

رقم السؤال Question No.					اسم المقدر Marker
Q.(5)	Q.(4)	Q.(3)	Q.(2)	Q.(1)	
Q.(10)	Q.(9)	Q.(8)	Q.(7)	Q.(6)	
Q.(15)	Q.(14)	Q.(13)	Q.(12)	Q.(11)	

المجموع الكلي للدرجات Total Marks

- يحظر تصوير أو تداول الورقة الامتحانية قبل أو أثناء أو بعد الامتحان من خلال البريد الالكتروني أو وسائل التواصل الاجتماعي أو أي وسيلة أخرى ومن يخالف ذلك سيتخذ في حقه الإجراءات القانونية المتبعة.
- على إدارت المدارس ولجان الامتحانات ومراكز التقدير مراعاة ذلك و رصد أي مخالفات والعمل على اتخاذ الإجراءات اللازمة.



- It is prohibited to photocopy or circulate the exam paper before / during and after the exam through e-mail, social media or any other means; and whoever violates this will be subject to the followed legal proceedings.
- School Administrations, Exam Committees and Marking Centers shall take this into account, monitor violations and take necessary measures.

Question		1	السؤال
Write the number.			اكتب العدد.
		$8,000 + 400 + 50 + 3 = \dots\dots\dots$	
A		3,548	
B		8,453	
C		8,354	

Question		2	السؤال
Write the number seven thousand two hundred eighty – six.			اكتب العدد سبعة آلاف ومئتان وست وثمانون.
A		7,862	
B		7,268	
C		7,286	


Question		3	السؤال
Which comparison is true?			أي مقارنة هي الصحيحة؟
A		$5,274 < 5,742$	
B		$5,274 = 5,247$	
C		$5,472 > 5,724$	


Question		4	السؤال
Add.			اجمع.
		<div style="border: 1px solid black; padding: 10px; width: fit-content; margin: auto;"> $\begin{array}{r} 6,509 \\ + 2,143 \\ \hline \text{.....} \end{array}$ </div>	
A		8,642	
B		8,652	
C		8,646	

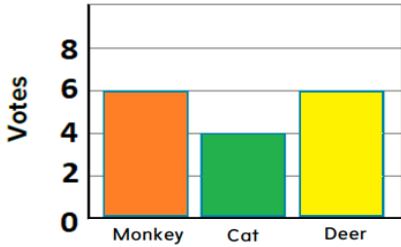
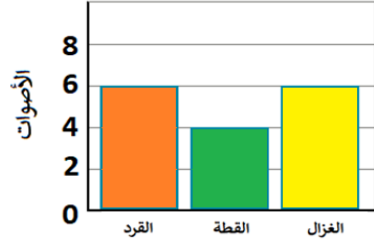
Question		5	السؤال
Subtract.			اطرح.
		<div style="border: 1px solid black; padding: 10px; text-align: center;"> $\begin{array}{r} 7,089 \\ - 3,451 \\ \hline \end{array}$ <p>.....</p> </div>	
A		4,638	
B		4,438	
C		3,638	


Question		6	السؤال
Multiply.			اضرب.
		<div style="border: 1px solid black; padding: 10px; text-align: center;"> $4 \times 5 = \dots\dots\dots$ </div>	
A		9	
B		20	
C		25	

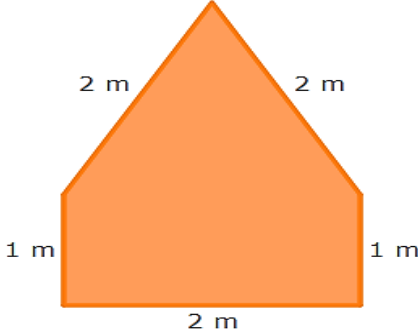
Question	7	السؤال
Divide.		اقسم.
$48 \div 6 = \dots\dots\dots$		
A	8	
B	42	
C	54	

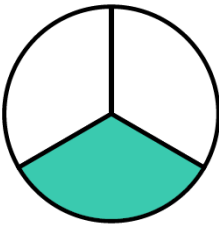
Question	8	السؤال
<p>Sara puts the same number of fish shown in each of 3 tanks.</p> <p>How many fish does she have?</p>		<p>سارة تضع نفس العدد من الأسماك الموضحة في كل من 3 أحواض.</p> <p>كم سمكة لديها؟</p>
		
A	$3 + 7 = 10$	
B	$3 \times 6 = 18$	
C	$3 \times 7 = 21$	

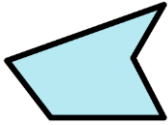
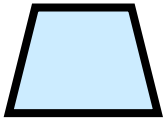
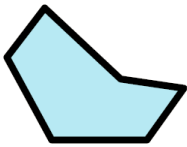
Question	9	السؤال
There are 42 students eating lunch in the cafeteria. If 7 students are sitting at each table, how many tables are being used?		هناك 42 طالبًا يتناولون الغداء في المطعم. إذا كان يجلس 7 طلاب على كل طاولة، فكم عدد الطاولات المستخدمة؟
		
A	$42 \div 7 = 6$	
B	$42 - 7 = 37$	
C	$42 + 7 = 49$	

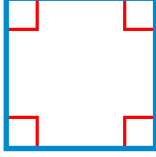
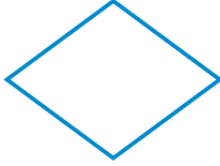

Question	10	السؤال
How many students were surveyed?		كم طالبًا إجمالاً شاركوا في استطلاع الرأي؟
<p>Favorite Animals</p> 		<p>الحيوانات المفضلة</p> 
A	10	
B	12	
C	16	

Question	11	السؤال
Write the time shown on the clock.		اكتب الوقت المبين على الساعة.
		
A	4:30	
B	5:30	
C	6:20	

Question	12	السؤال
What is the perimeter of the figure?		ما محيط الشكل؟
		
A	6 m	
B	8 m	
C	10 m	

Question		13	السؤال
Which unit fraction represents the shaded part of the figure?			أي كسر وحدة يمثل الجزء المظلل من الشكل؟
			
A		$\frac{1}{2}$	
B		$\frac{1}{3}$	
C		$\frac{1}{4}$	

Question		14	السؤال
Which of the following figures is a pentagon?			أي من الأشكال التالية هو خماسي الأضلاع؟
A			
B			
C			

Question	15	السؤال
<p>Choose the quadrilateral that has the following attributes: two long sides and two short sides, and four right angles.</p>		<p>حدد رباعي أضلاع له السمات الآتية: ضلعان طويلان وضلعان قصيران، وأربع زوايا قائمة.</p>
A		
B		
C		

انتهت الأسئلة
End of Questions